

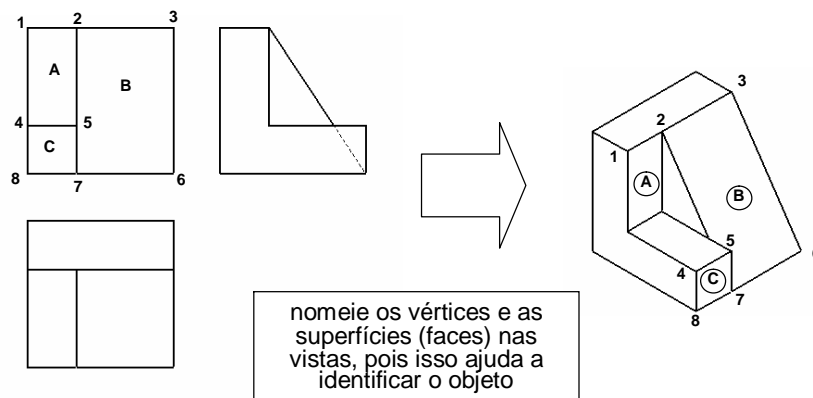
DESENHO BÁSICO – AULA 11

Vistas Ortográficas – Roteiro de desenho com instrumentos

TEM 12 e TEM 131 – 9/10

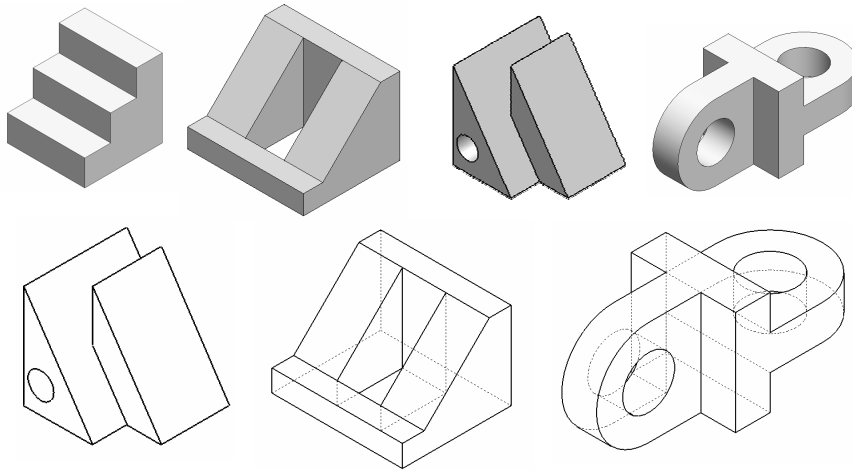
Exercício de perspectiva isométrica

- Abaixo, um exemplo para a execução do exercício 3





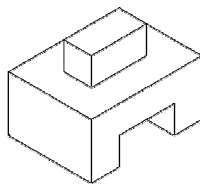
Exercício de perspectiva isométrica 3 soluções



Traçado das vistas com instrumentos

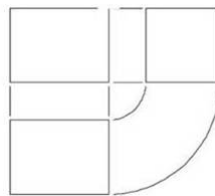
apostila
p. 80

40 x 30 x 30 mm

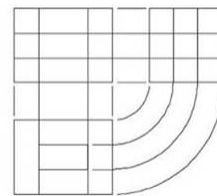


**VISTAS DEVEM SER
ALINHADAS E
ADEQUADAMENTE
ESPAÇADAS**

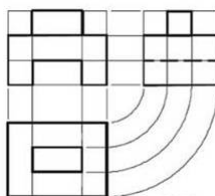
**observe a utilização de
cada tipo de traço:**
contínuo e fino
contínuo e forte
tracejado e médio



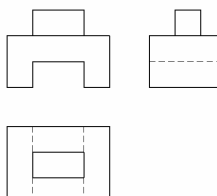
1



2



3



4

Exercício de Vistas Ortográficas - 2

- trace as vistas ortográficas com os instrumentos seguindo o roteiro mostrado abaixo

