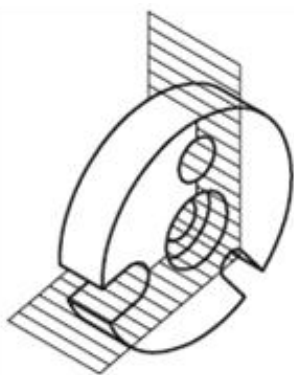
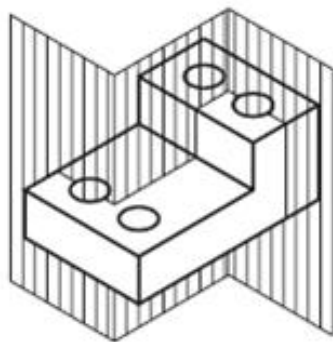


Analisar as perspectivas com indicação dos locais por onde passam os planos de corte e fazer, nas vistas ortográficas, o que é pedido.

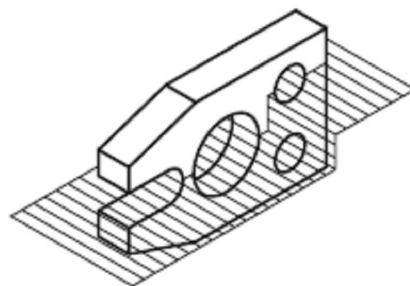
- Representar a indicação dos planos de corte.
- Hachurar as partes maciças atingidas pelos cortes.
- Escrever o nome do corte, no local apropriado.




A



B

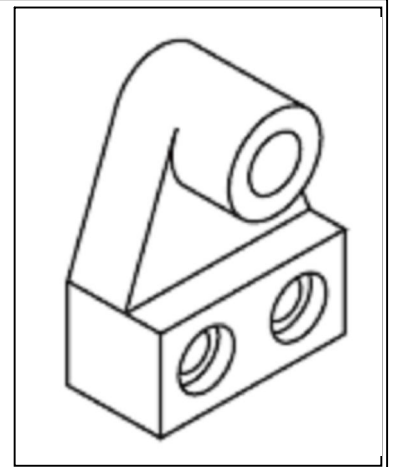


C

	CURSO TÉCNICO EM ELETROMECAÂNICA		UNIDADE CURRICULAR: DESENHO BÁSICO	
	ALUNO:		TURMA:	DATA.:
	DESCRIÇÃO: CORTES-EXERCÍCIO COM INSTRUMENTOS		PROFESSOR: ANDREI CAVALHEIRO	AV.:

Usando os instrumentos e o espaço disponível nesta folha:

- redesenhe a perspectiva isométrica da peça ao lado
- desenhe suas três vistas ortográficas preferenciais
- desenhe o corte mais adequado à representação da peça



CURSO TÉCNICO EM ELETROMECAÂNICA

UNIDADE CURRICULAR:
DESENHO BÁSICO

ALUNO:

TURMA:

DATA.:

DESCRIÇÃO:
CORTES-EXERCÍCIO COM INSTRUMENTOS

PROFESSOR:
ANDREI CAVALHEIRO

AV.:

FOLHA:
2/2