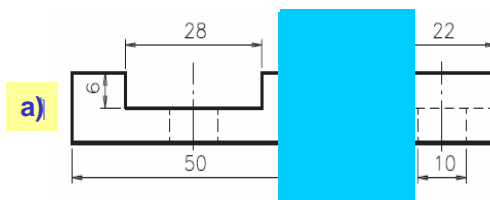
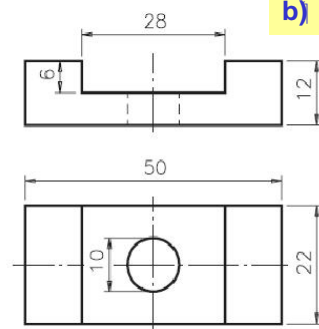
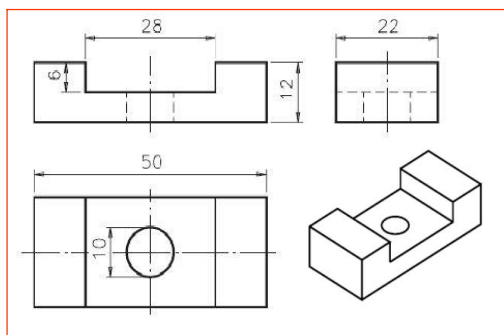


## DESENHO BÁSICO – AULA 08

Vistas Ortográficas (continuação)

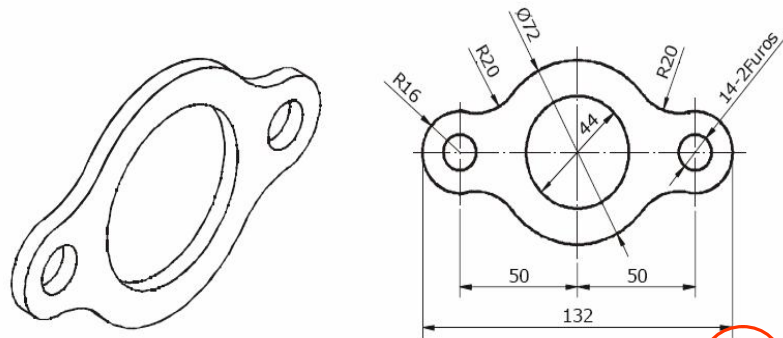
### Supressão de Vistas Diferentes



Qual é a melhor forma de representar essa peça?

- a) frontal + lateral
- b) frontal + superior

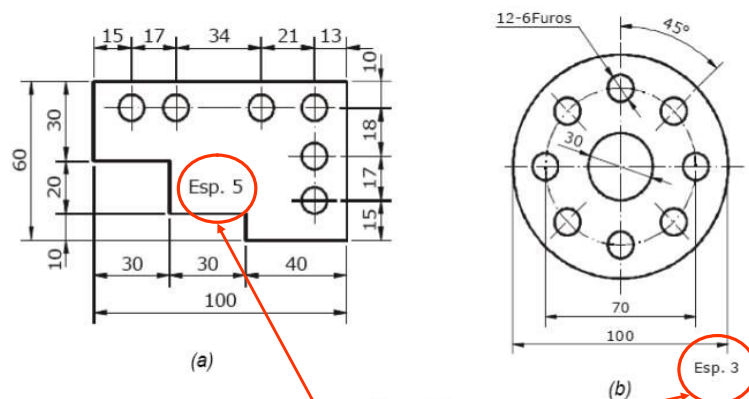
## Representação em Vista Única



indicação de espessura

Esp. 3

## Representação em Vista Única



indicação de espessura

Esp. 3

# Perspectiva Isométrica

- passo a passo

