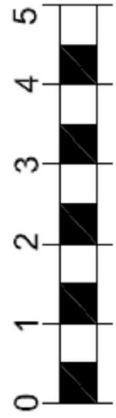
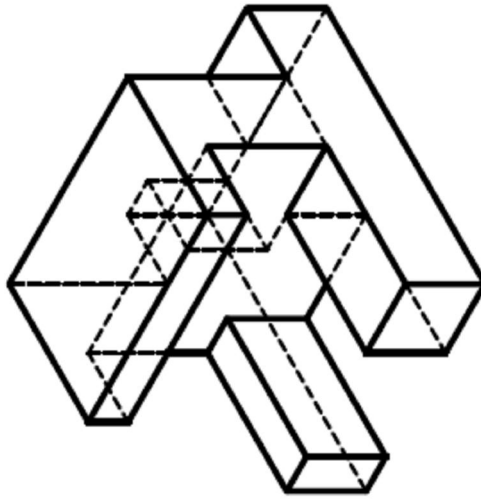


C

Desenhar, a mão livre, as vistas ortográficas da peça mostrada abaixo:

- Medidas baseadas na escala gráfica.
- Utilize grafite 0,9 ou lápis para as arestas em vista.
- Utilize grafite 0,5 para as linhas tracejadas (arestas ocultas).
- Utilize grafite 0,5 para traçar linhas auxiliares, se necessário.



Escala Gráfica

VISTA LATERAL

VISTA FRONTAL

VISTA SUPERIOR



CURSO TÉCNICO EM MALHARIA E CONFECÇÃO

UNIDADE CURRICULAR:
PLANTA BAIXA

ALUNO:

TURMA:

DATA:

ASSUNTO:
DESENHO DE VISTAS ORTOGRÁFICAS II

PROFESSOR:
ANDREI CAVALHEIRO

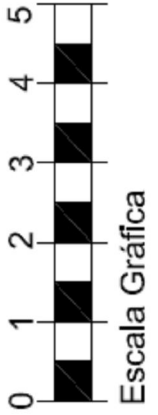
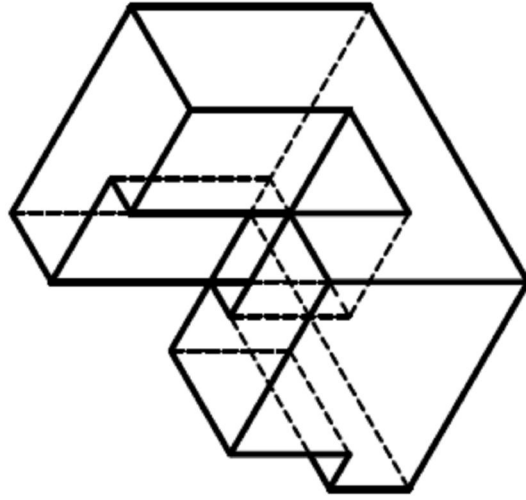
AV.:

FOLHA:
/

D

Desenhar, a mão livre, as vistas ortográficas da peça mostrada abaixo:

- Medidas baseadas na escala gráfica.
- Utilize grafite 0,9 ou lápis para as arestas em vista.
- Utilize grafite 0,5 para as linhas tracejadas (arestas ocultas).
- Utilize grafite 0,5 para traçar linhas auxiliares, se necessário.



VISTA LATERAL

VISTA FRONTAL

VISTA SUPERIOR



CURSO TÉCNICO EM MALHARIA E CONFECÇÃO

UNIDADE CURRICULAR:
PLANTA BAIXA

ALUNO:

TURMA:

DATA:

ASSUNTO:
DESENHO DE VISTAS ORTOGRÁFICAS II

PROFESSOR:
ANDREI CAVALHEIRO

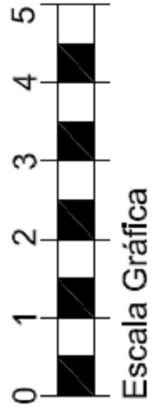
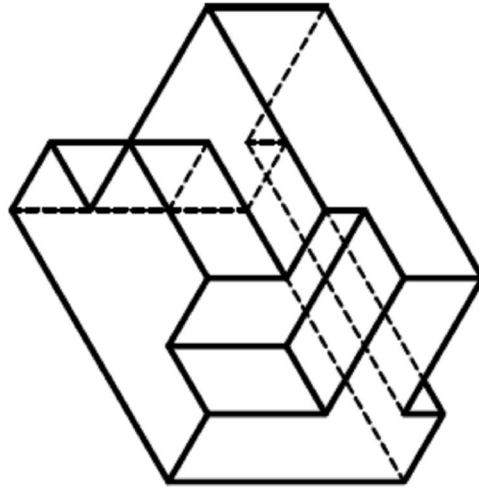
AV.:

FOLHA:
/

E

Desenhar, a mão livre, as vistas ortográficas da peça mostrada abaixo:

- Medidas baseadas na escala gráfica.
- Utilize grafite 0,9 ou lápis para as arestas em vista.
- Utilize grafite 0,5 para as linhas tracejadas (arestas ocultas).
- Utilize grafite 0,5 para traçar linhas auxiliares, se necessário.



Escala Gráfica

VISTA LATERAL

VISTA FRONTAL

VISTA SUPERIOR



CURSO TÉCNICO EM MALHARIA E CONFECÇÃO

UNIDADE CURRICULAR:
PLANTA BAIXA

ALUNO:

TURMA:

DATA:

ASSUNTO:
DESENHO DE VISTAS ORTOGRÁFICAS II

PROFESSOR:
ANDREI CAVALHEIRO

AV.:

FOLHA:
/