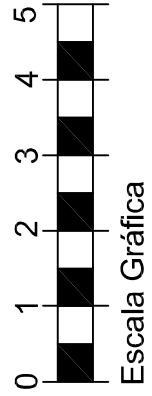
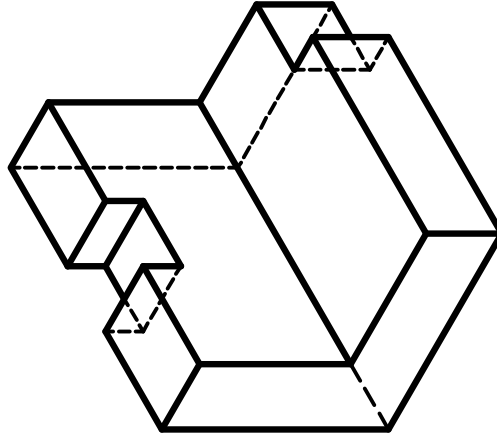


A

- Desenhar as Vistas Ortográficas da peça abaixo;
- Medidas baseadas na Escala Gráfica;
- Todos os desenhos deveram ser feito à mão-livre;
- Utilize grafite 0,9 nas fases vistas;
- Represente as partes ocultas da peça com grafite 0,5;
- Pintar as vistas de acordo com os seus níveis.



VISTA LATERAL

VISTA FRONTAL

VISTA SUPERIOR

CENTRO FEDERAL DE EDUCAÇÃO TECNOLÓGICA DE SERGIPE

Aluno:

VISTO:

1º CP

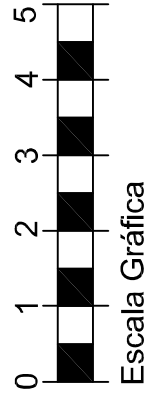
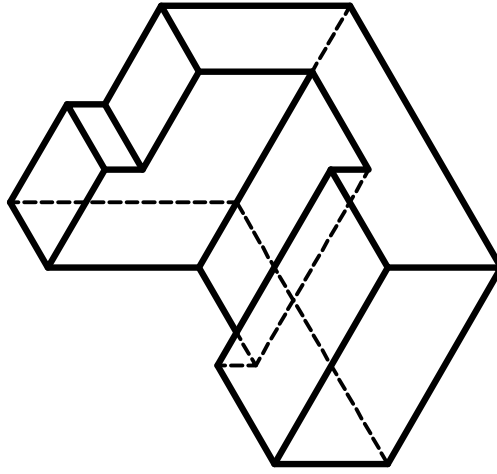
2007-2

Vistas Ortográficas (MÃO LIVRE)

PROFESSOR:  
CHATEAUBRIAND VIEIRA MOURA

**B**

- Desenhar as Vistas Ortográficas da peça abaixo;
- Medidas baseadas na Escala Gráfica;
- Todos os desenhos deveram ser feito à mão-livre;
- Utilize grafite 0,9 nas fases vistas;
- Represente as partes ocultas da peça com grafite 0,5;
- Pintar as vistas de acordo com os seus níveis.



VISTA LATERAL

VISTA FRONTAL

VISTA SUPERIOR

CENTRO FEDERAL DE EDUCAÇÃO TECNOLÓGICA DE SERGIPE

Aluno:

VISTO:

1º CP

2007-2

Vistas Ortográficas (MÃO LIVRE)

PROFESSOR:  
CHATEAUBRIAND VIEIRA MOURA